

Dans chaque fleur chante une abeille

Le chêne est la force de la forêt, le bouleau en est la grâce ; le sapin, la musique berceuse ; le tilleul, lui, en est la poésie intime. L'arbre tout entier a je ne sais quoi de tendre et d'attirant ; sa souple écorce, grise et embaumée, saigne à la moindre blessure ; en hiver, ses pousses sveltes s'empourprent comme le visage d'une jeune fille à qui le froid fait monter le sang aux joues ; en été, ses feuilles en forme de cœur ont un susurrement doux comme une caresse. Va te reposer sous son ombre par un bel après-midi et tu seras pris comme par un charme. Tout le reste de la forêt est assoupi et silencieux ; à peine entend-on au loin un roucoulement de ramiers ; la cime arrondie du tilleul, seule, bourdonne dans la lumière. Au long des branches, les fleurs d'un jaune pâle s'ouvrent par milliers, et dans chaque fleur chante une abeille. ...

André Theuriet, Sous bois

Epreuve de français (entre 1910 et 1940)

Méli-mélo en cuisine ! (12 points, ½ point par faute) :

Complétez les mots terminés par le son « o » :

Mon cuisinier s'appelle Rousseau. C'est une espèce de
lourd....., de rust..... rempli de
déf....., et qui se croit fin..... Il est
court....., roug..... de figure et sourd comme
un p..... Parfois quand je m'approche de son
fourn..... ou de son réch....., il ne m'entend
pas. Heureusement, il tient h..... le flamb.....
en cuisine : ses fricand..... à l'oseille sont excellents
et vous vous léchiez les ongles de ses plats de
perdr....., de laper..... et de levr..... ; il
arrange supérieurement un morc.....
d'aloy..... Il me fait manger souvent du
chevr....., du jambonn....., du
pigeonn....., des bécass..... et des
artich..... Et que vous dirai-je de son boudin blanc,
qu'il met dans des boy..... de porc ou de
pourc..... !

Épreuve de français

Orthographe (20 points) :

Complétez ces mots avec b ou bb, d ou dd :

Em.....ourber

Le ra.....inat

L'é.....riété

L'u.....iquité

Une a.....iction

Le pu.....ing

Un a.....aptateur

Les a.....ucteurs

L'a.....hérence

Un a.....juvant

A.....mettre

Les é.....ats

L'é.....ullition

Une a.....aye

gi.....eux

Un a.....age

a.....itionnel

L'é.....ène

Un a.....ieu

Une i.....éologie

Épreuve de français (1923)

Synonymes (5 points) :

vétille, folâtre, aversion, pusillanime, mou

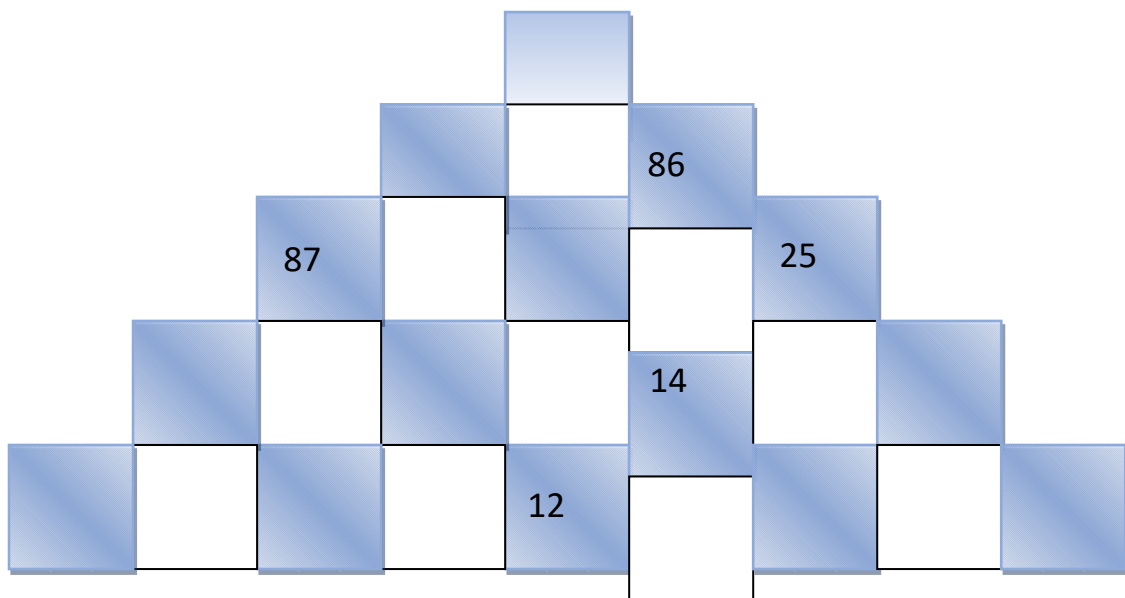
- | | | | |
|-----------|---|---|-------|
| Crainitif | • | • | |
| Inimitié | • | • | |
| Badin | • | • | |
| Indolent | • | • | |
| Bagatelle | • | • | |

Épreuve de logique et mathématiques à résoudre
par le calcul et le raisonnement

Le chamboule-tout (15 points, 1,5 pts par faute) :

Lors de la fête de l'école, Eliette joue au chamboule-tout. Chaque boîte porte une valeur qui est la somme des deux boîtes situées en dessous.

Quelle sera la valeur de la boîte au sommet de ce chamboule-tout ?



Problèmes de logique et petites énigmes

Suite logique (5 points) :

Complétez cette suite logique :

1 – U – 2 – D – 3 – T – 4 - ... - 5 - ... - 6 - ... - 7 - ... - 8 - ...

Tel père tel fils (3 points) :

Le premier enfant de Marcel et de Marceline est né. Toute la famille vient l'admirer. Il a les cheveux frisés et noirs de son papa, il a les pommettes roses et les yeux bleus de sa maman, sa peau est blanche. De quelle couleur sont ses dents ?

.....

Nul en maths (5 points) :

Louis n'est pas très fort en calcul, pourtant il s'entraîne.

Il écrit sur son cahier de brouillon : **99 + 1 = 44**

Et il assure à sa maman que cette opération est possible.

Pourquoi ?

.....
.....
.....
.....
.....
.....

Épreuve d'Histoire

Le savez-vous ? (4 points) :

1) Le 6 septembre 1914, quel général français sauva Paris en dirigeant la bataille de la Marne ?

Pétain

Joffre

Foch

2) Quel fort fut au centre de la bataille de Verdun, à partir de février 1916 ?

Le fort de Douaumont

Le fort Vauban

Le fort Saint-Jean

3) Quelle terrible bataille va commencer en juillet 1916, qui fera plus de 600 000 victimes dans les deux camps ?

La bataille de la Marne

La bataille du Rhin

La bataille de la Somme

4) Quel est le nom de l'offensive française qui, en avril 1917, par ses énormes pertes, provoquera des mutineries ?

L'offensive Pétain

L'offensive Nivelle

L'offensive Foch

Epreuve d'Histoire

L'esprit des lumières(5 points).

Rendez à chaque auteur son oeuvre :

Buffon, Diderot, Montesquieu, J.J. Rousseau, Voltaire

-● ● Lettres persanes
-● ● Candide
-● ● Julie ou la Nouvelle Héloïse
-● ● Histoire naturelle
-● ● Le Neveu de Rameau

Epreuve d'Histoire

Les grandes figures du XIX^{ème} siècle (10 points).

Retrouvez quelle est la spécialité de chacun :

Biologiste, musicien, physicien, écrivain, physicien, sculpteur, écrivain,
peintre, musicien, peintre

- | | | |
|--------------------|---|---------|
| Emile Zola | • | • |
| George Sand | • | • |
| François Rude | • | • |
| Louis Pasteur | • | • |
| Théodore Géricault | • | • |
| Eugène Delacroix | • | • |
| Georges Bizet | • | • |
| Hector Berlioz | • | • |
| François Arago | • | • |
| André Marie Ampère | • | • |

Epreuve de géographie

Une belle silhouette (9 points) :

1) Quelle est la forme de la France ?

.....

2) Quel est le fleuve le plus long de France ?

.....

3) Par combien de mers la France est-elle baignée ?

.....

Citez-les :

.....

.....

4) Quel est le plus haut sommet de la France et quelle est son altitude ?

.....

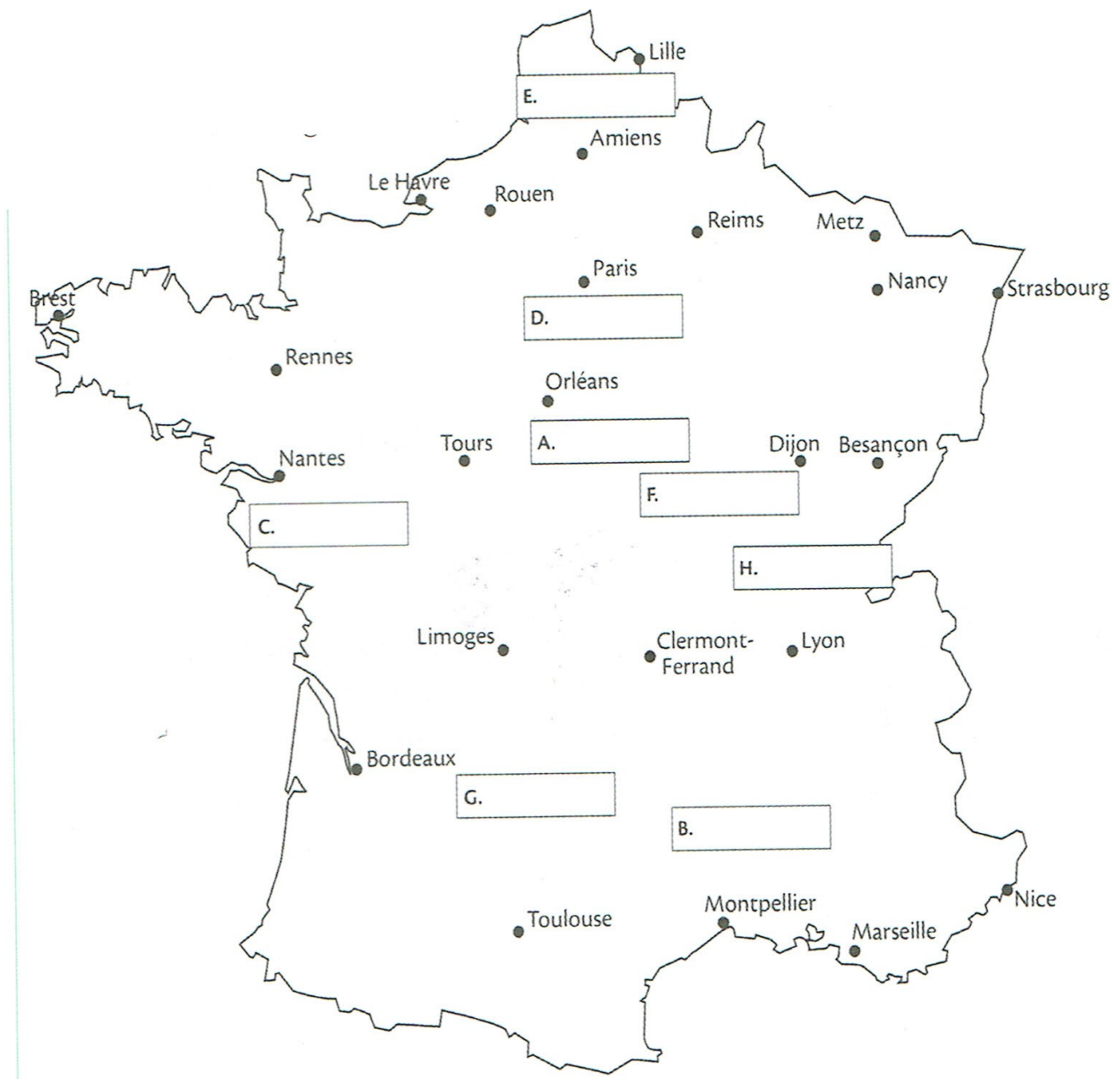
.....

Épreuve de géographie

Localisation de nos Régions (16 points) :

Saurez-vous replacer ces régions sur la carte ? Précisez la lettre correspondant à la bonne réponse.

1. Artois ___
2. Brie ___
3. Bresse ___
4. Cévennes ___
5. Morvan ___
6. Quercy ___
7. Sologne ___
8. Vendée ___

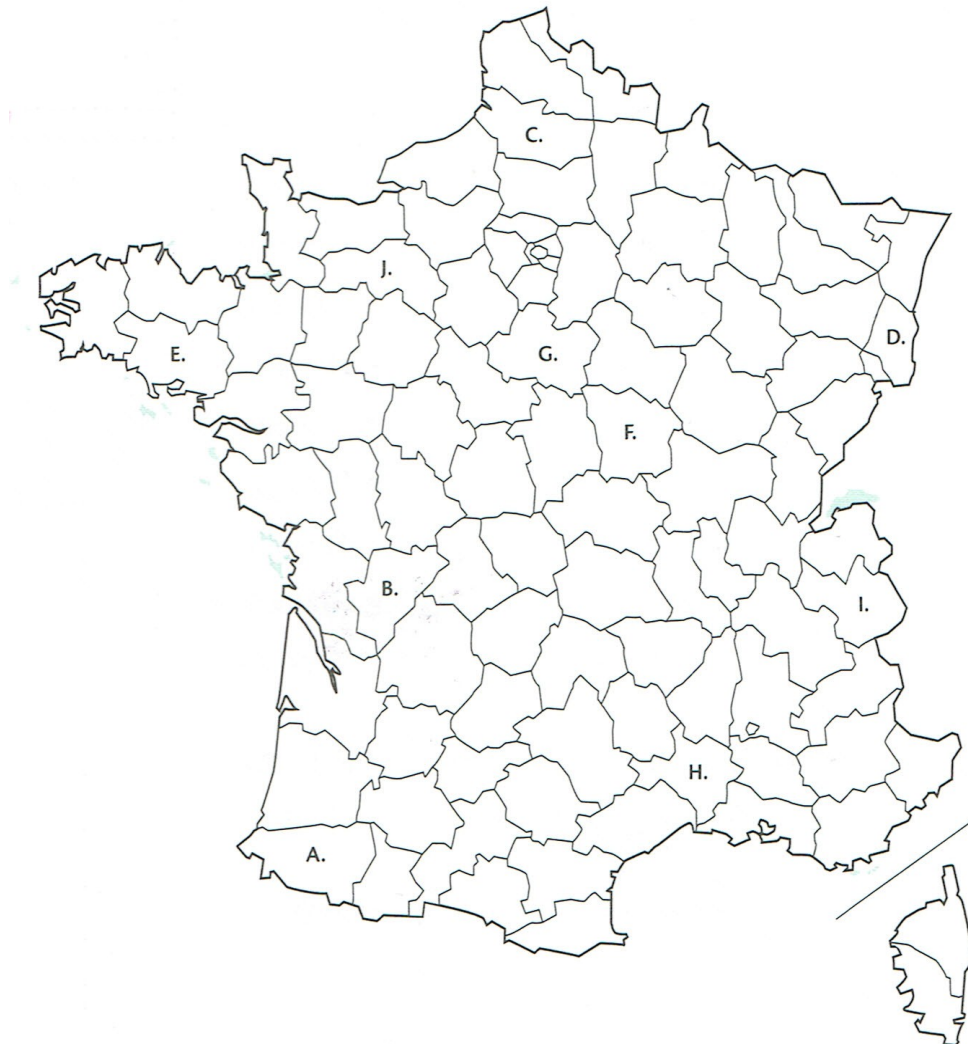


Épreuve de géographie

Les départements français (20 points) :

Sur cette carte, localisez les départements suivants :

- | | | |
|---------------------|----------------------------|-------------------|
| 1. Morbihan – | 2. Basses-Pyrénées – | |
| 3. Loiret - | 4. Gard – | 5. Somme - |
| 6. Orne - | 7. Haut-Rhin – | 8. Nièvre - |
| 9. Charente - | 10. Savoie – | |



Leçon de choses

On récolte ce que l'on sème (12 points) :

1. Récolte des pour le cidre.
2. Récolte du pour le pain.
3. Récolte du pour le vin.
4. Récolte du pour la bière.
5. Travail du et du pour le tissage.

Épreuve de Sciences

L'œil et la vue (12 points) :

1) Comment s'appelle la cavité dans laquelle l'œil est enchâssé ?

.....

2) Quelle membrane transparente recouvre l'œil ?

.....

3) Comment s'appelle le disque contractile, de couleur variable d'une personne à l'autre, qui se trouve au milieu de l'œil ?

.....

4) Quel nom donne-t-on au trou situé au centre de ce disque ?

.....

5) Quel élément, situé derrière la pupille, joue le rôle de lentille ?

.....

.....

6) Quelle membrane tapissant le fond de l'œil est reliée au nerf optique ?

.....